






**1. En el vídeo verás estas imágenes. Explica lo que crees que representan.**



**2. Indica qué representan estas imágenes.**



**3. Contesta a las preguntas.**

1. ¿Cuántos habitantes tiene Madrid contando su municipio y el área metropolitana?
2. ¿Qué representa la Puerta del Sol?
3. ¿Cuáles son los monumentos y lugares más emblemáticos del Parque del Retiro?
4. ¿Cómo se celebra la festividad del Corpus Christi en Toledo?

**4. Relaciona los elementos de las dos columnas y justifica tu respuesta.**

- |                               |                            |
|-------------------------------|----------------------------|
| 1. Castilla La Mancha         | a. Reales Sitios de Madrid |
| 2. Toledo                     | b. Madrid de los Austrias  |
| 3. Corpus Christi             | c. Palacio de Cristal      |
| 4. Palacio Real y El Escorial | d. Kilómetro Cero          |
| 5. Parque del Retiro          | e. Unesco                  |
| 6. Puerta el Sol              | f. Cervantes               |
| 7. Plaza Mayor                | g. gigantes                |

**5. En el vídeo aparece esta imagen. ¿Sabes qué representa y en qué zona de Madrid se encuentra?**




---

---

---

---

---

---

---